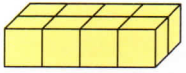


# Wie viele Würfel sind es?

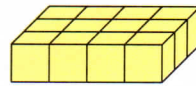
1 Wie viele Würfel sind es?



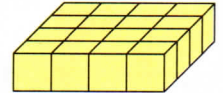
\_\_\_\_\_ Würfel



Das sind  
2 · 4 Würfel.

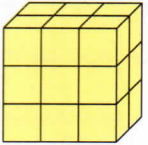


\_\_\_\_\_ Würfel

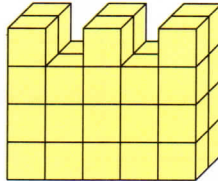


\_\_\_\_\_ Würfel

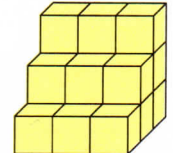
2 Wie viele Würfel sind es?



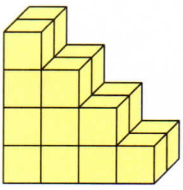
\_\_\_\_\_ Würfel



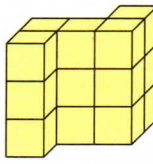
\_\_\_\_\_ Würfel



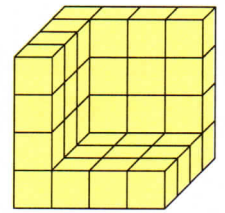
\_\_\_\_\_ Würfel



\_\_\_\_\_ Würfel

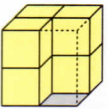


\_\_\_\_\_ Würfel

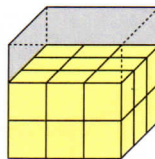


\_\_\_\_\_ Würfel

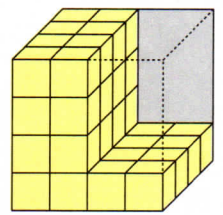
3 Tina will aus kleinen Würfeln einen großen bauen.  
Wie viele Würfel braucht sie jeweils noch?



Sie braucht noch  
\_\_\_\_\_ Würfel.

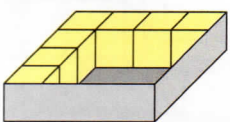


Sie braucht noch  
\_\_\_\_\_ Würfel.

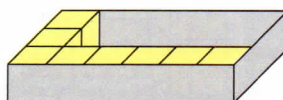


Sie braucht noch  
\_\_\_\_\_ Würfel.

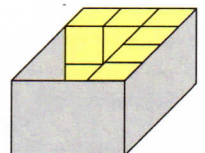
4 Robin will aus kleinen Würfeln einen Quader bauen.  
Wie viele Würfel braucht er noch?



Er braucht noch  
\_\_\_\_\_ Würfel.



Er braucht noch  
\_\_\_\_\_ Würfel.



Er braucht noch  
\_\_\_\_\_ Würfel.